

الرياضيات

المراقبة المستمرة 1 الأسدوس الأول



الاسم الكامل:
التاريخ:
الفوج:
القسم: الثالث ابتدائي

| الملاحظة | الإدارة | الأب/ الوالي |
|----------|---------|--------------|
| 10 | | |

1/ أصل بخط

| | |
|-----------------------|--------------------------|
| ألف | <input type="checkbox"/> |
| مئتان وستة عشر | <input type="checkbox"/> |
| ثلاثة آلاف ومئة وسبعة | <input type="checkbox"/> |
| ألف وأربع مئة | <input type="checkbox"/> |

| | |
|-------|--------------------------|
| 216 | <input type="checkbox"/> |
| 1400 | <input type="checkbox"/> |
| 3 107 | <input type="checkbox"/> |
| 1 000 | <input type="checkbox"/> |

2/ أكتب العدد المكون من

7 وحدات و5 عشرات و6 مئات و3 آلاف :

126 عشرة 9 وحدات :

3/ كضع الرمز المناسب : < أو > أو = مكان النقط

16 143

(13 x 10) + 6 136

209 508

100 + 56 151

4/ أكمل

300 + 8 =

1 000 + 200 + 50 + 7 =

(6 x) + (. x 100) + (. x 10) + 2 = 6 28.

5/ لاحظ أثمان الملابس



150 درهما



195 درهما



230 درهما



85 درهما



225 درهما

أ- حدد ثمن أعلى لباس:

ب- رتب الأثمنة من الأصغر إلى الأكبر باستعمال الرمز المناسب

.....

1

1

1

1.5

1

6/ أضع وأنجز مايلي

$345 + 456$

$215 + 132$

$458 + 134$

.....

.....

.....

.....

1.5

7/ اشترت زينب لعبة بثمن 250 درهما ودمية بثمن 35 درهما

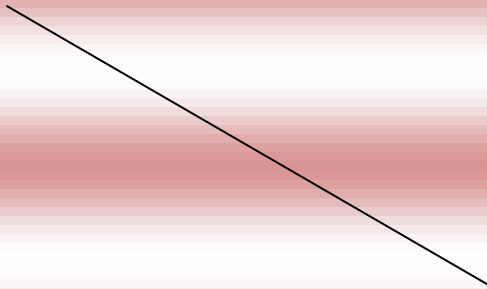
كم دفعت زينب للبائع؟

.....

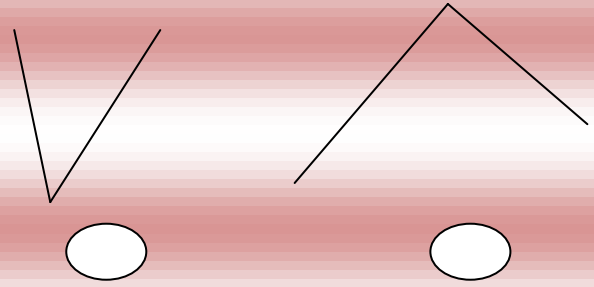
.....

0.75

9/ أرسم مستقيما متعامدا مع المستقيم الأسود



8/ أضع علامة تحت الزاوية القائمة



10/ أصل بخط

- الخامسة والنصف
- الخامسة تماما
- الخامسة والربع

تشير الساعة إلى



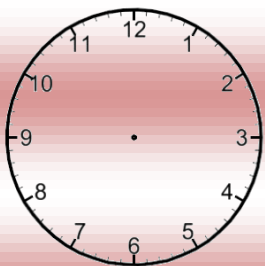
1

0.25

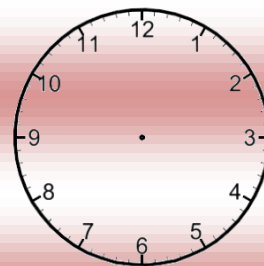
16 : 30

11/ غادرت مريم منزلها على الساعة العاشرة صباحا لزيارة جدتها وعادت على الساعة

ارسم عقربي الساعتين التاليتين :



وقت العودة إلى البيت



وقت المغادرة

1