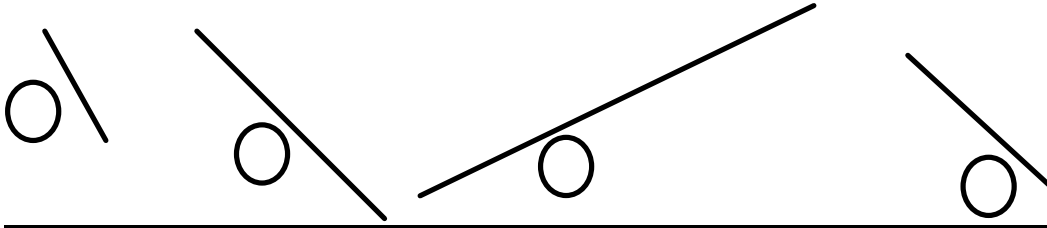
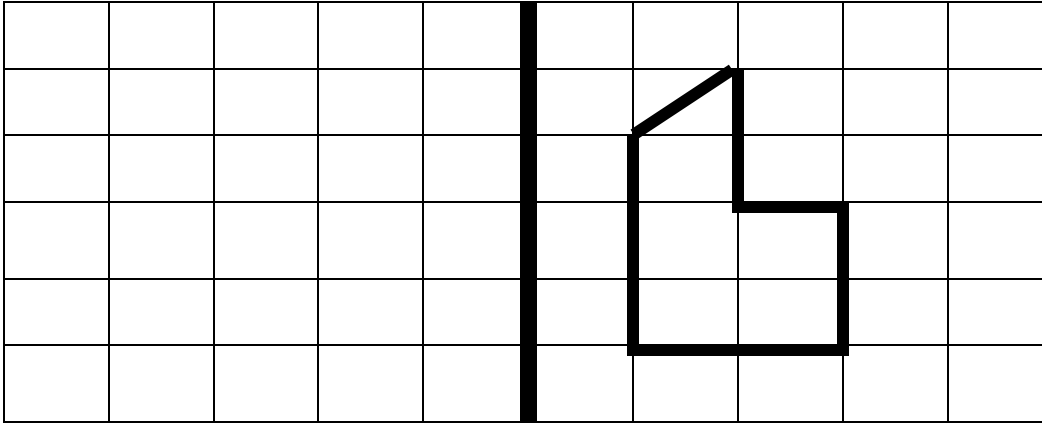


(3) أرتب من الأقصر إلى الأطول : 2 ن



(4) ارسم مماثل الشكل التالي والون كل زاوية قائمة بالأحمر: 2 ن



(5) أملأ الجدول : 2 ن

.....+.....+.....	137
.....	200+60
أربع مئة وخمسة وسبعون+.....+.....
.....		306

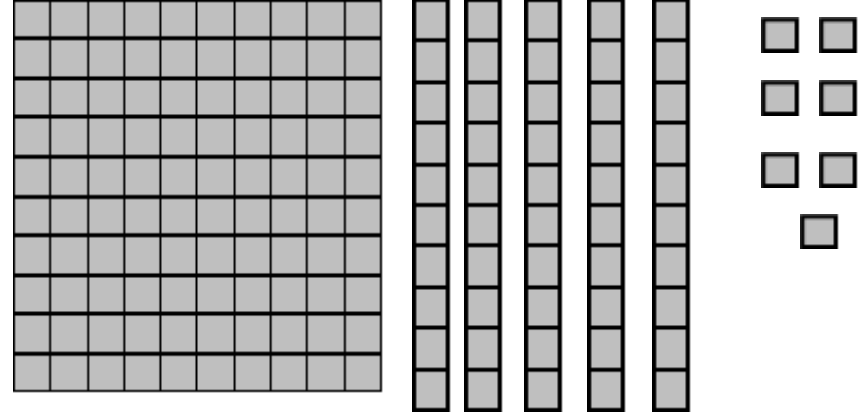
توقيع الأب او الولي:

10

تقويم 2 في مادة
الرياضيات

اسم المتعلم:

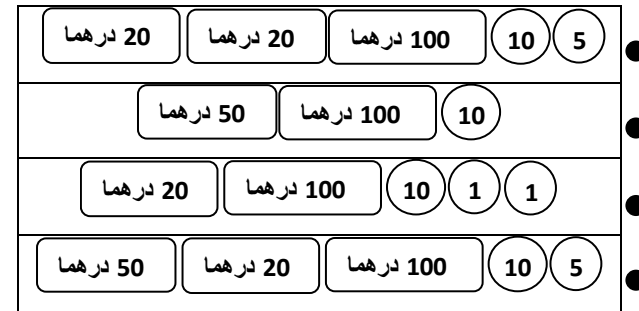
1- أتمم و املأ الجدول: 2 ن



الوحدات	العشرات	المئات
.....

..... + + =

2- صل بخط : 2 ن



- 132 درهما
- 145 درهما
- 185 درهما
- 160 درهما