



امتحان موحّد

دورة يونيو 2011

للمستوى الأولي ثانوي إعدادي

مادة : العلوم الطبيعية

مدة الانجاز : نصف ساعة

www.9alami.com



بتاريخ : 2011/06/20

الاسم الكامل :

استرداد المعارف

1- عرف ما يلي: (3 ن)

- الاستحاثات:
- صخور سيليسية:
- خريطة طبوغرافية:

2- أجب بصحيح أم خطأ: (3 ن)

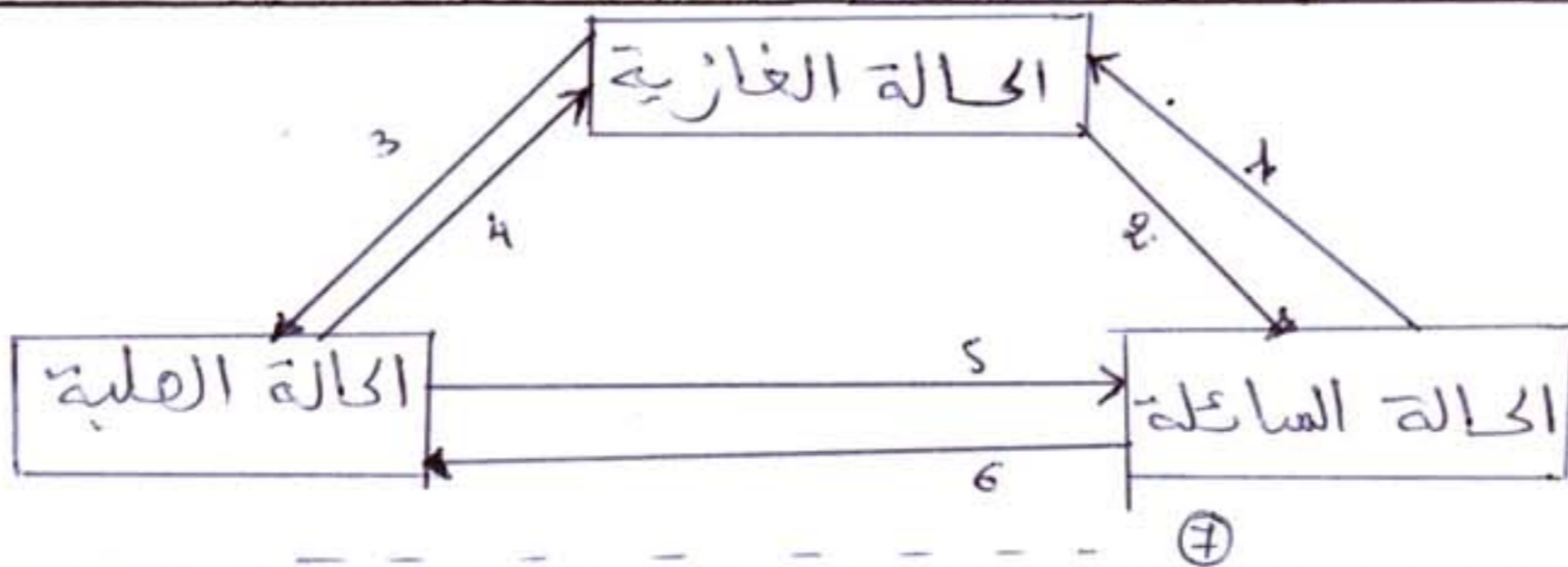
- للمستحاثات الطبقاتية توزيع جغرافي شاسع.....
- يتصخر الحجر الرملي عن طريق التماسك.....
- نوع التوزيع في اللاغون توزيع أفقي.....

3- اعط مقابل المصطلحات التالية: (2 ن)

les fossiles دورة رسوبية.....

Sédimentation سلم استراتيجرافي.....

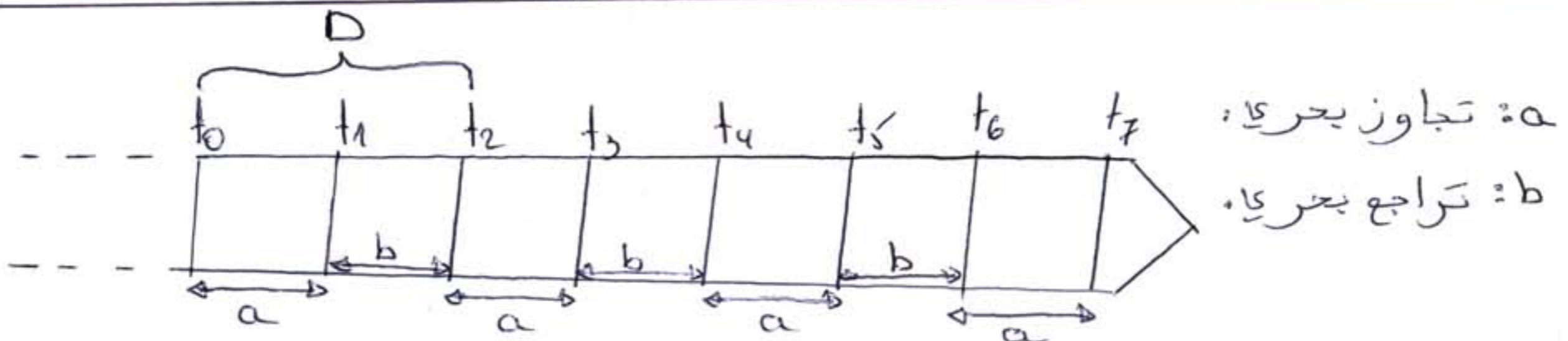
4- أتمم الخطاطة التالية: (3 ن)



اختبار المكتسبات

التمرين الأول (5 ن)

- لدينا الخطاطة التالية:



1- سم الظاهرة D ؟

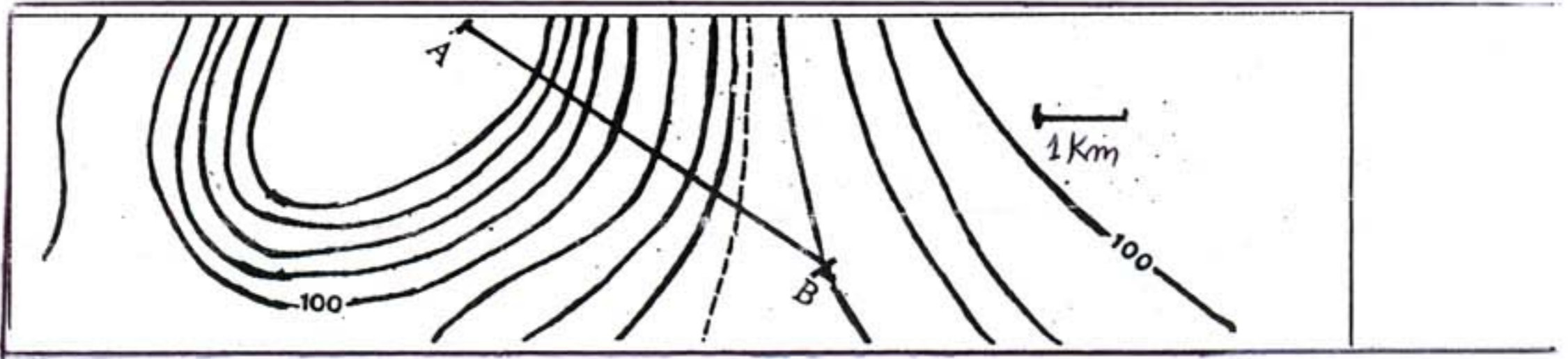
2- ما عدد الدورات الدورة الرسوبية؟

3- ما الظواهر الجيولوجية الخارجية المرتبطة بالتجاوز البحري و التراجع البحري؟

4 عبر بواسطة خطاطة عن مراحل تشكل الدورة الرسوبية؟

التمرين الثاني (4)

- لدينا الخريطة الطبوغرافية الآتية.



1- أوجد سلم هذه الخريطة؟

2- حدد المسافة الحقيقية بين A و B ؟