

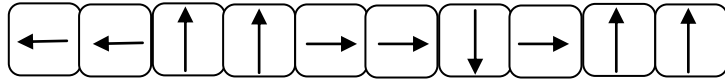
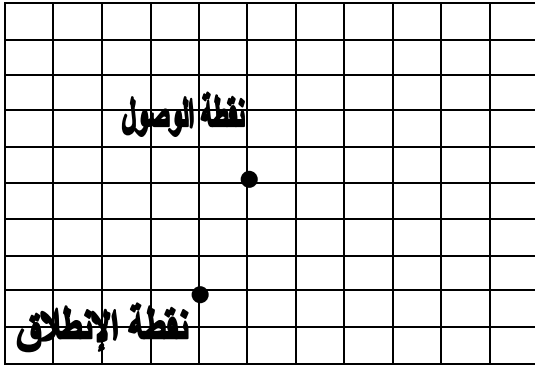
الموسم الدراسي : 2008 / 2009 م

المستوى الثاني ابتدائي

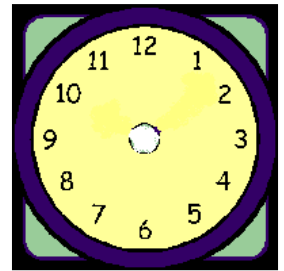
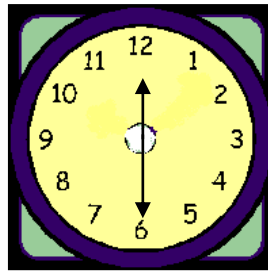
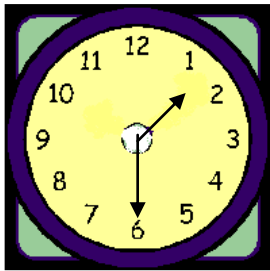
الاسم الكامل :

الرياضيات : (10 ن)

1. ارسم مساراً حسب القن التالي : (1 ن)



2. أكمل حسب المطلوب : (2.5 ن)

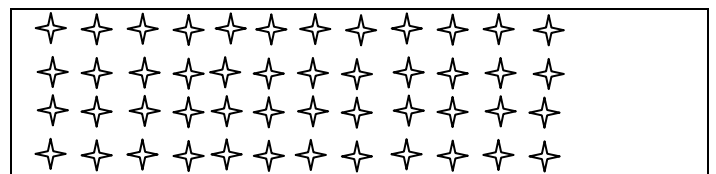


..... : :	9 : 15
..... و النصف	السادسة تماما

4. أملأ الفراغ : (2.5 ن)

الكتابة الضربية	الكتابة الجمعية	الكتابة الاعتيادية
2 x 6
.....	5 + 5 + 5 + 5
10 x 5	50

3. أجمع بعشرة و أملأ الجدول : (3 ن)



العشرات	الوحدات

العدد هو :

5. أحل المسألة : (1 ن)

يملك احمد 15 درهما ، و يريد شراء قصة ثمنها 12 درهما . كم سيبقى لدى احمد من درهم ؟