

الإمتحان المبرك المستوى الثاني دورة 16 يونيو 2008

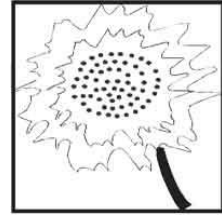
المادة	النشاط العلمي	اسم المتعلم	النقطة الممنوحة
مدة الإنجاز	30 دقيقة	الوحدة المدرسية / 10

www.9alami.com


2.5 ن1- أكتب تحت كل عضو الحاسة المناسبة له :



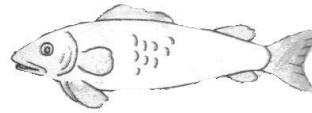
1.5 ن2- أكتب إسم الجزء الذي يؤكل في النباتات التالية:



2 ن3- لون مصادر الصوت بالأحمر ومستقبلاته بالأخضر:



4 ن4- أكتب أسماء الأجزاء التي تتحرك أثناء التنقل وصل كل حيوان بكيفية تنقله:



يزحف يعوم

يطير