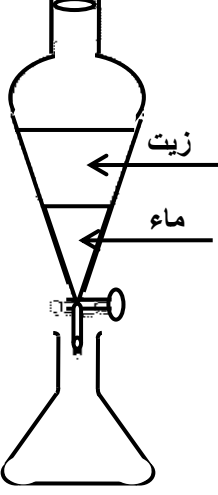
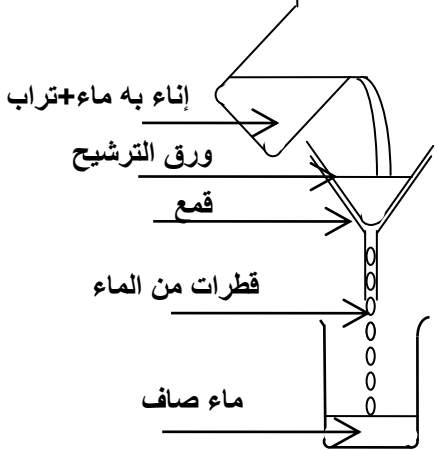
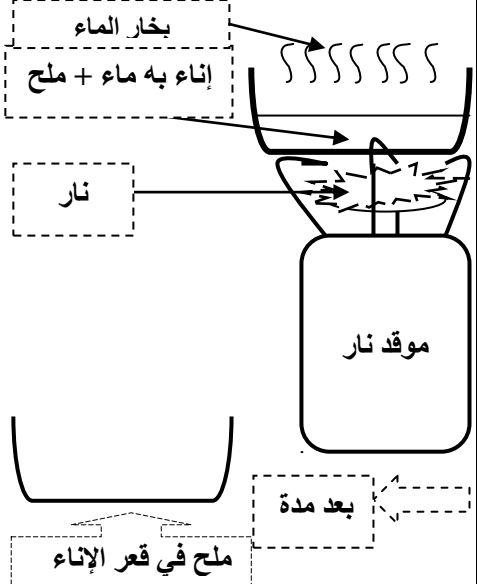


تقويم في النشاط العلمي

النشاط الأول :

1. لاحظ الرسوم الثلاث لطرق فصل الخلائط و اكتب تحت كل
2. أكمل الجمل التالية بما يناسبها انطلاقا من الرسوم أعلاه

1.5 ن

③ الطريقة الثالثة	② الطريقة الثانية	① الطريقة الأولى
 <p>زيت ماء</p>	 <p>إناء به ماء+تراب ورق الترشيح قمع قطرات من الماء ماء صاف</p>	 <p>بخار الماء إناء به ماء + ملح نار موقد نار بعد مدة ملح في قعر الإناء</p>
عملية	عملية	عملية

- تستعمل الطريقة الأولى لفصل الخلائط.....
- تستعمل الطريقة الثانية لفصل الخلائط.....
- تستعمل الطريقة الثالثة لفصل الخلائط.....

2 ن

3. أتم العبارة التالية بما يناسبها مما يلي :

غير متجانس - متجانس - ماء الجير - غاز ثنائي أكسيد الكربون

- المشروبات الغازية خليط يتكون..... و المشروب الغازي ، نكتشف وجود..... باستعمال.....

2 ن

4. أتم العبارات بما يناسبها مما يلي :

يمكن تمييز مكوناته بالعين المجردة - لا يمكن تمييز مكوناته بالعين المجردة

الخليط غير المتجانس هو الذي

.....

الخليط المتجانس هو الذي

.....

النشاط الثاني :

3 ن [6 × 0.5]

اربط بخط ما يلي :

مبيض
قضيب
قناة منوية
رحم
خصية
فرج

♣ عضو توالدي ذكري
♣ عضو توالدي أنثوي