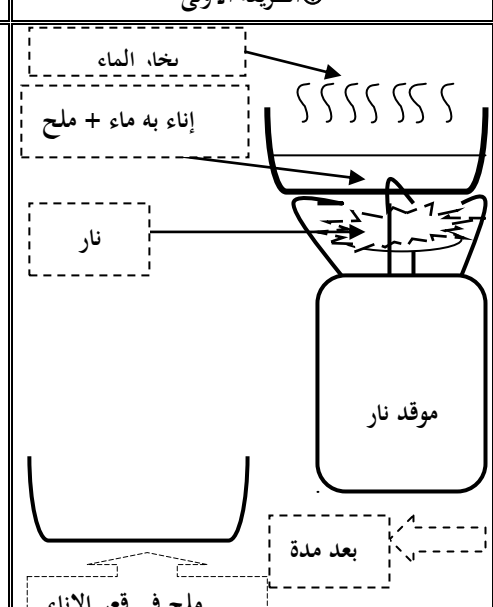
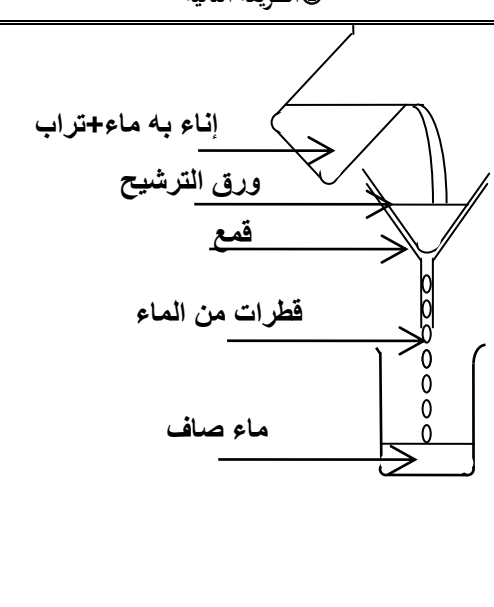
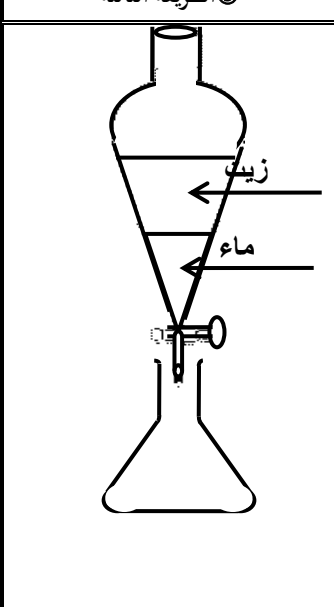


## فرض 1 في النشاط العلمي

1. لاحظ الرسوم الثلاث لطرق فصل الخلائط و اكتب تحت كل طريقة اسمها 1.5 ن

الطريقة الأولى ①	الطريقة الثانية ②	الطريقة الثالثة ③
		
عملية .....	عملية .....	عملية .....

2. أكمل الجمل التالية بما يناسبها انطلاقا من الرسوم أعلاه 1.5 ن

- ✍ تستعمل الطريقة الأولى لفصل الخلائط.....
- ✍ تستعمل الطريقة الثانية لفصل الخلائط.....
- ✍ تستعمل الطريقة الثالثة لفصل الخلائط.....

2 ن

3. أتم العبارة التالية بما يناسبها مما يلي :

غير متجانس - متجانس - ماء الجير - غاز ثنائي أكسيد الكربون

- ✍ المشروبات الغازية خليط ..... يتكون..... و المشروب الغازي ، نكتشف وجود..... باستعمال.....

2 ن

4. أتم العبارات بما يناسبها مما يلي :

يمكن تمييز مكوناته بالعين المجردة - لا يمكن تمييز مكوناته بالعين المجردة

- ✍ الخليط غير المتجانس هو الذي .....

- ✍ الخليط المتجانس هو الذي .....

3 ن [0.5 × 6

النشاط الثاني: اربط بخط ما يلي :

5.

مبيض	◆
قضيبي	◆
قناة منوية	◆
رحم	◆
خصية	◆
فرج	◆

♂ عضو توالدي ذكري	◆
♀ عضو توالدي أنثوي	◆